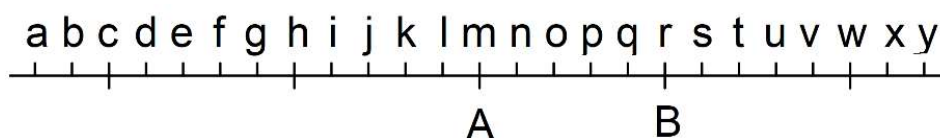


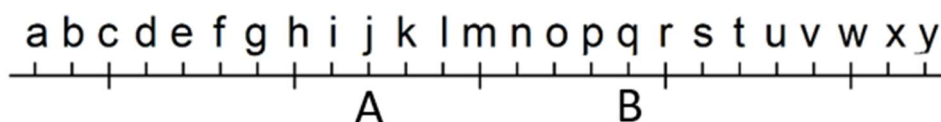


## Test: ČÍSELNÁ OSA

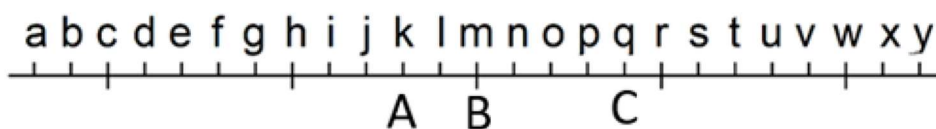
- 1) Na číselné ose jsou vyznačena čísla A a B. Číslo A je o třetinu menší než číslo B. Na místě kterého písmene má být číslo nula?



- 2) Na číselné ose jsou vyznačena písmena A a B. V bodě A je číslo  $\frac{1}{5}$ . V bodě B je číslo  $\frac{2}{3}$ . Na místě kterého písmene má být číslo nula?



- 3) Číslo C má hodnotu 240 a je součtem čísel A a B. Jakou hodnotu má číslo A?



### VÝSLEDKY PŘÍKLADŮ

1. c

2. g

3. 96