

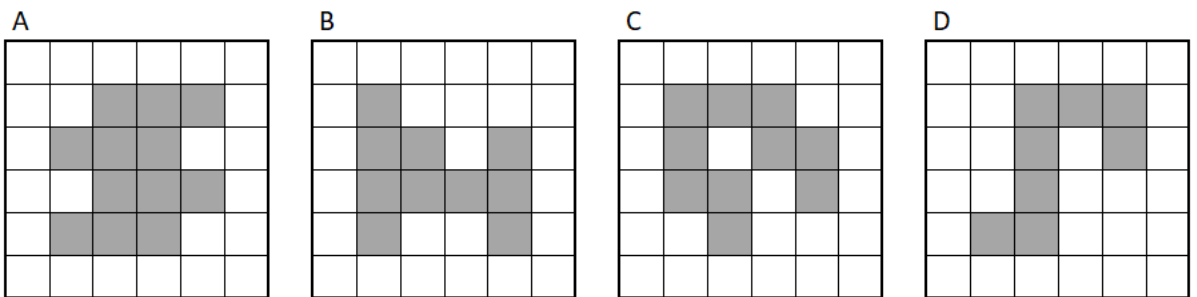


## Test: OSOVÁ SOUMĚRNOST

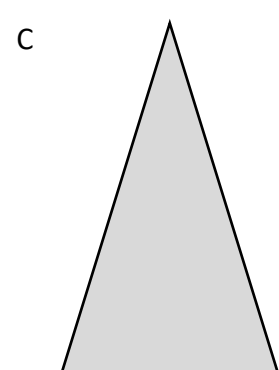

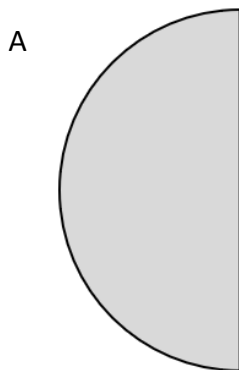
1) Které z číslic 0 až 9 jsou osově souměrné?



2) Ve kterém obrázku získáme odebráním jednoho čtverečku osově souměrný obrazec?



3) Kolik os souměrnosti mají následující obrazce?



VÝSLEDKY PŘÍKLADŮ

1. 0138

2. C

3.

